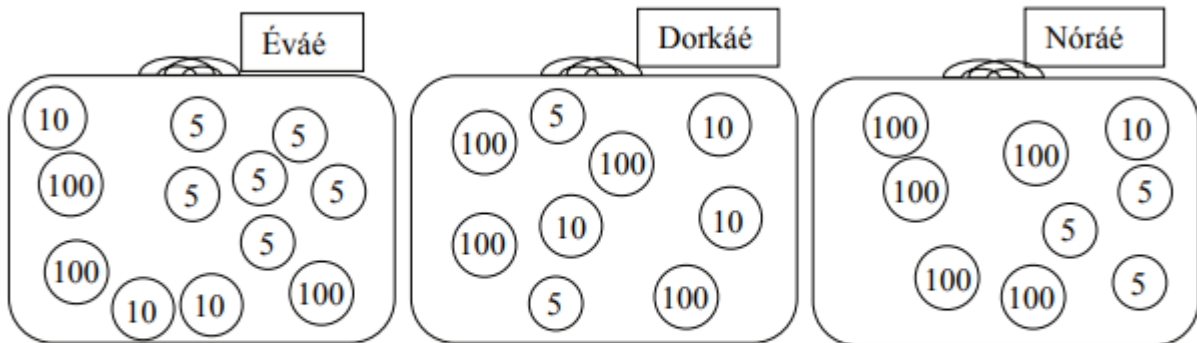


Teszt

1. Éva, Dorka és Nóra pénztárcáját látod az alábbi ábrán. A pénztárcákban csak 5, 10 és 100 forintos pénzermék vannak.

a) Írd a pénztárcák alá, melyikben hány forint, és hány pénzérme van!



A pénz értéke: Ft. A pénz értéke: Ft. A pénz értéke: Ft.
 A pénzermék száma: A pénzermék száma: A pénzermék száma:

A következő állítások a fenti pénztárcákra vonatkoznak.

b) Írd a keretbe, hogy az állítás igaz (I) vagy nem igaz (N)! Válaszodat indokold!

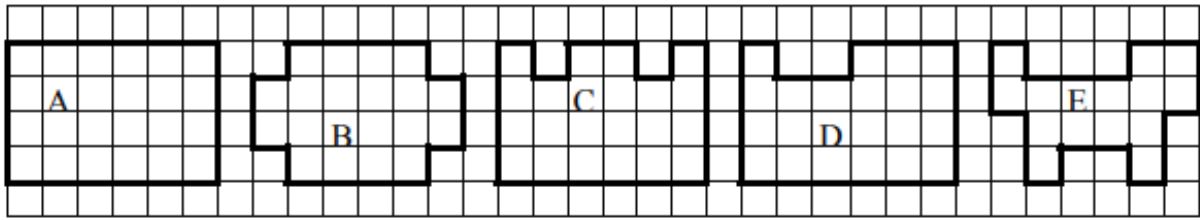
(1) Amelyik pénztárcában a legtöbb pénzérme van, abban van a legtöbb pénz.

, mert

(2) Amelyik pénztárcákban megegyezik a pénzermék száma, azokban ugyanannyi a pénz értéke.

, mert

2. Válaszolj a kérdésekre az alábbi alakzatok betűjével!



a) Keresd meg azt a két-két alakzatot a fentiek közül, amelyeknek egyenlő a kerülete!

Betűjelüket írd a pontozott vonalakra!

.....

.....

b) Keresd meg azt a két alakzatot a fentiek közül, amelyeknek egyenlő a területe!

Betűjelüket írd a pontozott vonalra!

.....

3. Oldd meg az alábbi feladatot!

a) Melyik az alábbiak közül az a két szám, amelyeknek az összege éppen 1000?

Írd a pontsorra!

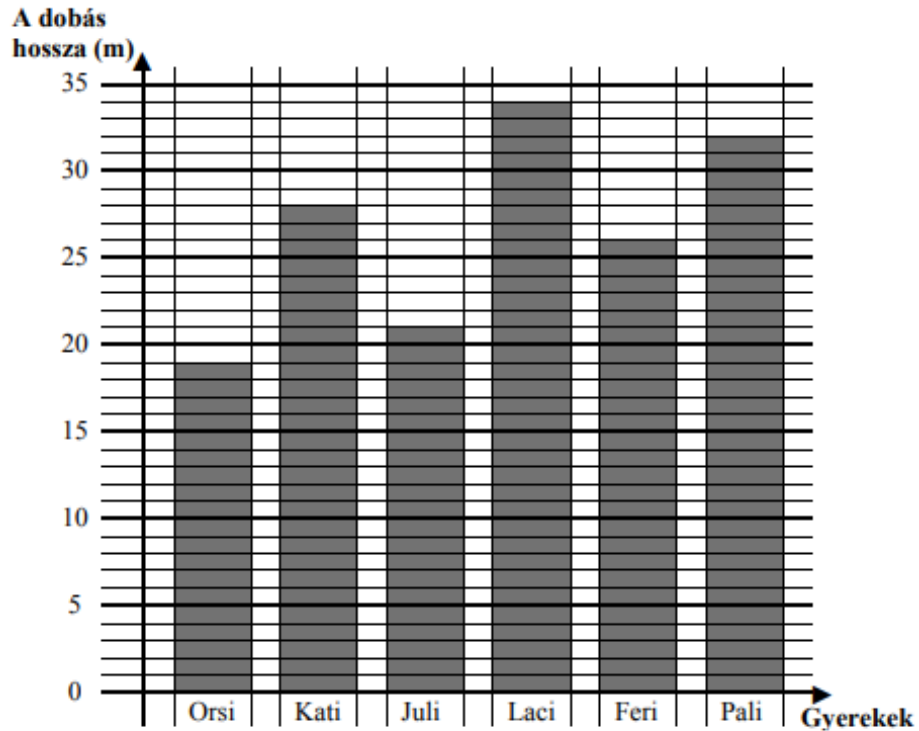
546, 590, 827, 564, 610, 173.

b) Mennyi a kiválasztott két szám különbsége?

c) A fenti számok közül válaszd ki azokat, amelyeknek százasokra kerekített értéke

egyenlő!

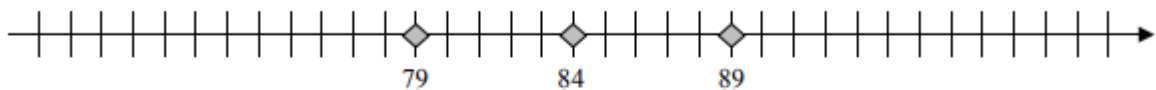
4. Ruhákat gyöngyökkel díszítettek. Három különböző minta szerint varrták fel a gyöngyöket.



- a) Ki nyerte a lányok versenyét?
- b) Hány métert dobott a győztes fiú?
- c) Sorold fel mindazok nevét, akik legalább 20 métert dobtak!
-
- d) Hány gyereknek volt a legjobb dobása 30 méternél rövidebb?
- e) Hány méterrel volt hosszabb Laci legjobb dobása Orsi legjobb dobásánál?

7. Egy sorozat szomszédos tagjai egyenlő távolságra vannak egymástól a számegyenesen. Megjelöltük a sorozat 3 egymást követő tagját.
a)–b) Folytasd a sorozatot mindkét irányban 2-2 taggal!

Jelöld a számok helyét a számegyenesen!



- c)–e) Karikázd be a következő számok közül azokat, amelyek benne vannak a fenti sorozatban!

20, 21, 22, 23, 24, 25, 155, 2008, 2009

8. Figyelmesen dolgozz!

