
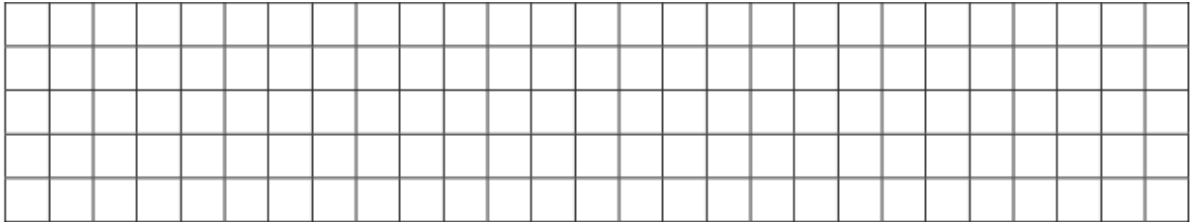


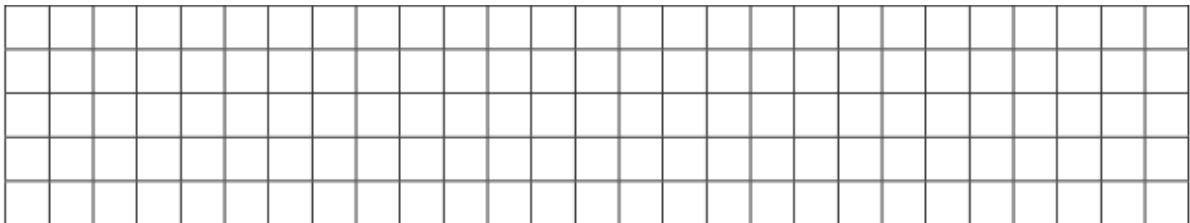
- 8) Egy négyzög alakú tortát 8 egyenlő részre vágunk az ábra szerint. Először megettük a torta felét, majd még két szeletet. Színezd be mennyit maradt a tortából! Mennyi a maradék, ha az egész torta 1200 Ft?



- 9) Az apa egy év múlva kétszer olyan idős lesz, mint a fia. Ma együtt 58 évesek. Hány éves a fiú?



- 10) Pisti este és reggel megnézi a kinti hőmérőt, amely este 5°C -ot mutat. Mennyit mér reggel, ha éjjel a hőmérséklet 11°C -ot csökken?



- 11) Itt van három számkártya. Rakj ki velük háromjegyű számokat! Írd le mind!

